



ABORDEZ EN CLASSE LES RIVAGES DU CALVADOS !

Réponds aux questions soit en groupe ou bien seul.

Tu as à ta disposition des archives et
des repères chronologiques.






Le Calvados et ses rivages en quelques

dates !

Création du Dépôt des
cartes et plans de la
marine à Brest pour
l'hydrographie
française

Création du duché de
Normandie


Création de la commune
de Deauville



911




Guillaume le
Conquérant et son
armée traversent la
Manche en partant de
Dives-sur-Mer direction
l'Angleterre et
débarquent à Pevensey.
A la suite de la bataille
d'Hastings, Guillaume
devient roi d'Angleterre



19 NOV. 1720


Création du
département du
Calvados



1859




Débarquement en
Normandie



6 JUIIN 1944

Document n°1





1) Présente le document : nature (texte, carte, graphique, photographie, ...), titre et auteur. Estime la date de réalisation. Tu peux t'appuyer sur les repères chronologiques.

.....

.....

.....

.....

2) Que représente cette carte ? Sais-tu qui est la divinité marine représentée ? Si oui, qui est-ce et comment l'as-tu reconnue ?

.....

.....

.....

.....

3) Les rivages te paraissent-ils rassurants à cette époque selon la représentation qu'en fait l'auteur ?

.....

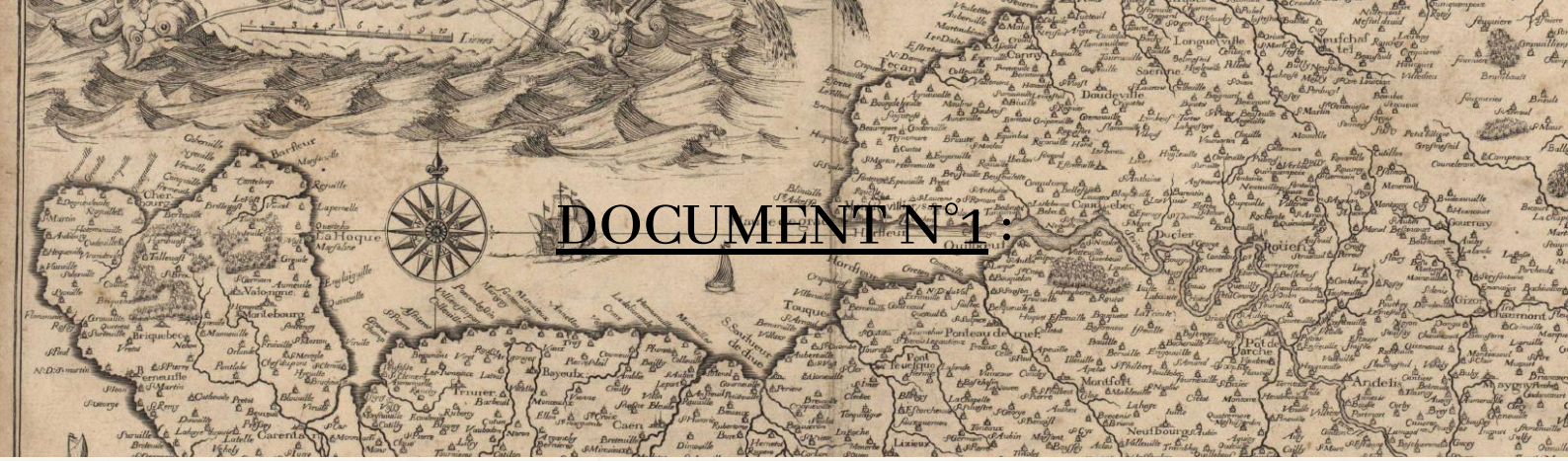
.....

.....



Le sais-tu ?

Au XVIIe siècle, on pensait que la mer était un endroit dangereux peuplé de monstres marins et de divinités.



DOCUMENT N°1

4) Trouve la rose des vents. Peux-tu expliquer ce que c'est et à quoi cela sert ?

.....

.....

.....

.....

5) Peux-tu retrouver le département du Calvados et ses rivages sur cette carte ? N'hésite pas à l'entourer sur ton document.

.....

.....

.....

.....

6) Quels noms de villes côtières reconnais-tu ? Ces noms ont-ils changé ?

.....

.....

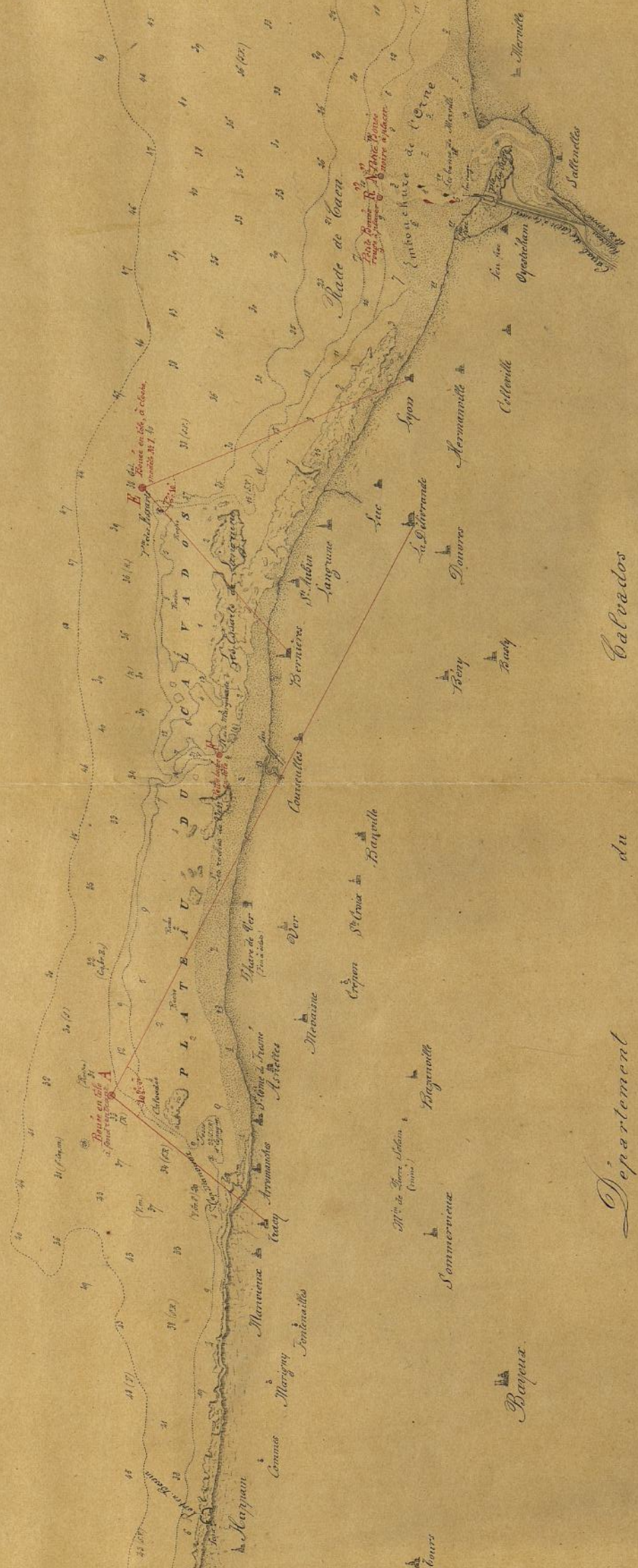
.....

.....



Le sais-tu ?

En France, la première carte générale du territoire fut dressée par la famille Cassini au XVIIIe siècle.



Calvados

du

Département

Barque

Sommeriveux

St. de Pierre Sébastien

Blagnyville

Brayville

Barby

Barby

Sernandville

Sernandville

Calvados

Calvados

Ports et Chaussées.

N^o 5.

Document n^o 2 / B :

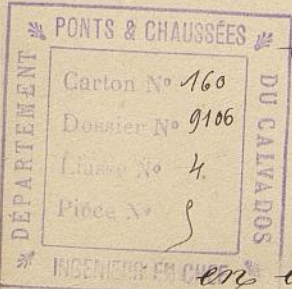
Département
du Calvados.

Ingénieur en chef
M^r. Harduin

Service des Ports Maritimes.



Balisage des côtes du Calvados
entre Port-en-Bessin et l'embouchure de l'Orne.



Projet modifié

en exécution de la dépêche ministérielle du 5 Mars 1864.

ARCHIVES

Extrait

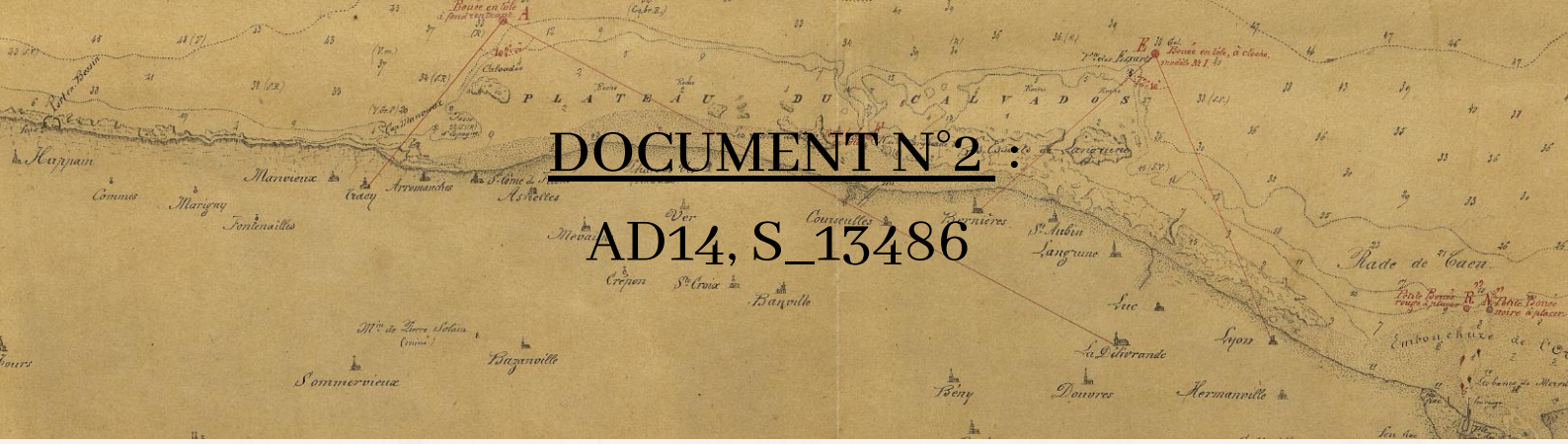
de la Carte du littoral entre Port-en-Bessin
et l'embouchure de l'Orne, sur lequel la
position des bouées est indiquée.

Dressé et présenté par l'Ingénieur en chef
des Ports Maritimes soussigné.

Caen le 2 Mai 1864.

A Harduin

*En conformité à ma lettre de ce jour
Paris, le 2 Juin 1864
Le Ministre de l'Intérieur
du Commerce et des Travaux publics
pour le Ministre et par autorisation
Le Comité d'Administration
Directeur Général des Ports et Chaussées
et des Chemins de Fer*



DOCUMENT N°2 :

AD14, S_13486

1) Compare les deux cartes : qu'est-ce qui a changé ? Peux-tu expliquer ce que sont les lignes et les nombres sur la carte ?

.....

.....

.....

.....

2) En t'aidant de ta réponse précédente et du document n°2 /B, présente la carte : titre, date, lieu et auteur. La carte est-elle plus récente ou plus ancienne que la précédente ? Explique ton choix.

.....

.....

.....

.....

2) Retrouve les villes suivantes : Courseulles, Saint-Aubin, Bernière. Que remarques-tu ? N'y a-t-il pas quelque chose qui manque aux noms de ces villes ?

.....

.....

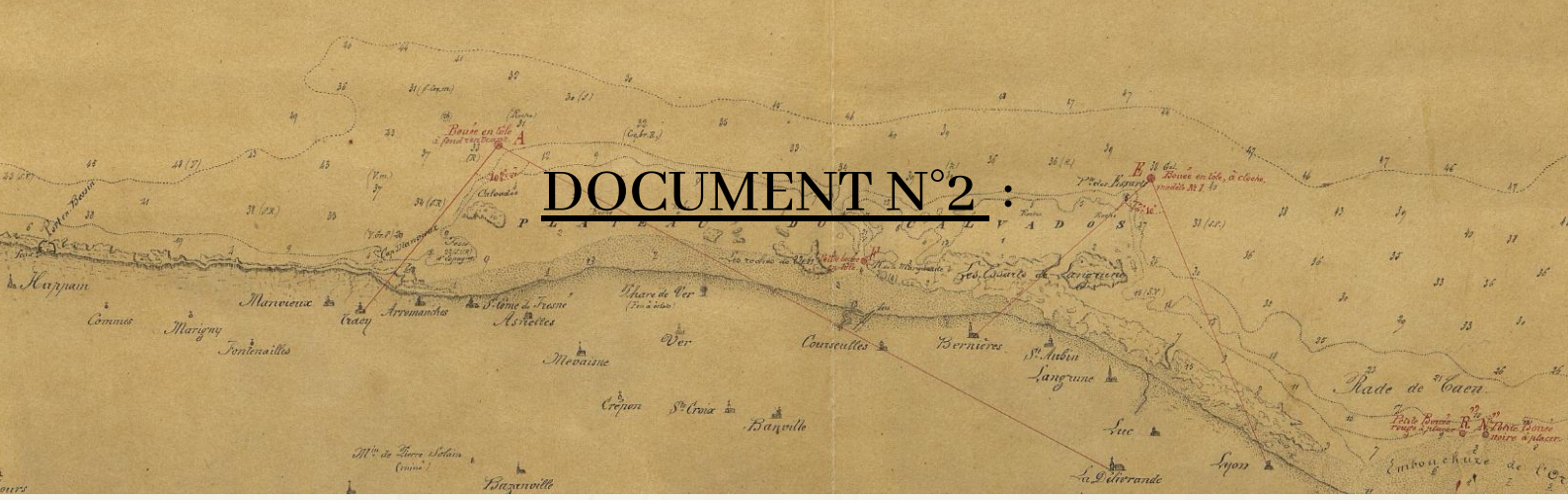
.....

.....



Le sais-tu ?

Au XVIIe siècle, l'État nomme des ingénieurs des ponts et chaussées pour entretenir les voies de communications : routes, ponts, ports.



4) A l'aide du document n°2/B pourquoi a-t-on fait cette carte ?

.....

.....

.....

.....

5) Est-ce que tu utilises des cartes ? Si oui, pourquoi faire ? Et sous quelles formes (papier, GPS ...) ?

.....

.....

.....

.....

Le sais-tu ?


L'hydrographie est l'étude et la description des cours d'eau et des étendues d'eau (océans, mers, lacs...) qu'on peut observer à la surface de la terre ou dans le sous-sol.

L'hydrographie apparaît en France au XVI^e siècle dans différentes écoles réalisant des cartes et des ouvrages nautiques. L'école normande est particulièrement connue pour la variété de ses travaux et pour son activité d'enseignement de la navigation.





Document n°3



DOCUMENT N°3 :
AD14, 924W/108,

1) A ton avis de quel siècle date ce document ? Justifie ta réponse. Tu peux entourer sur le document les éléments qui t'ont aidé.

.....

.....

.....

.....

2) Décris les activités que tu vois.

.....

.....

.....

.....

3) Les rivages te paraissent-ils toujours aussi effrayants ?

.....

.....

.....

.....

4) Cette vue a été prise à Saint-Aubin-sur-Mer. Peut-être y es-tu déjà allé ? Connais-tu d'autres villes côtières ?

.....

.....

.....

.....



Le sais-tu ?

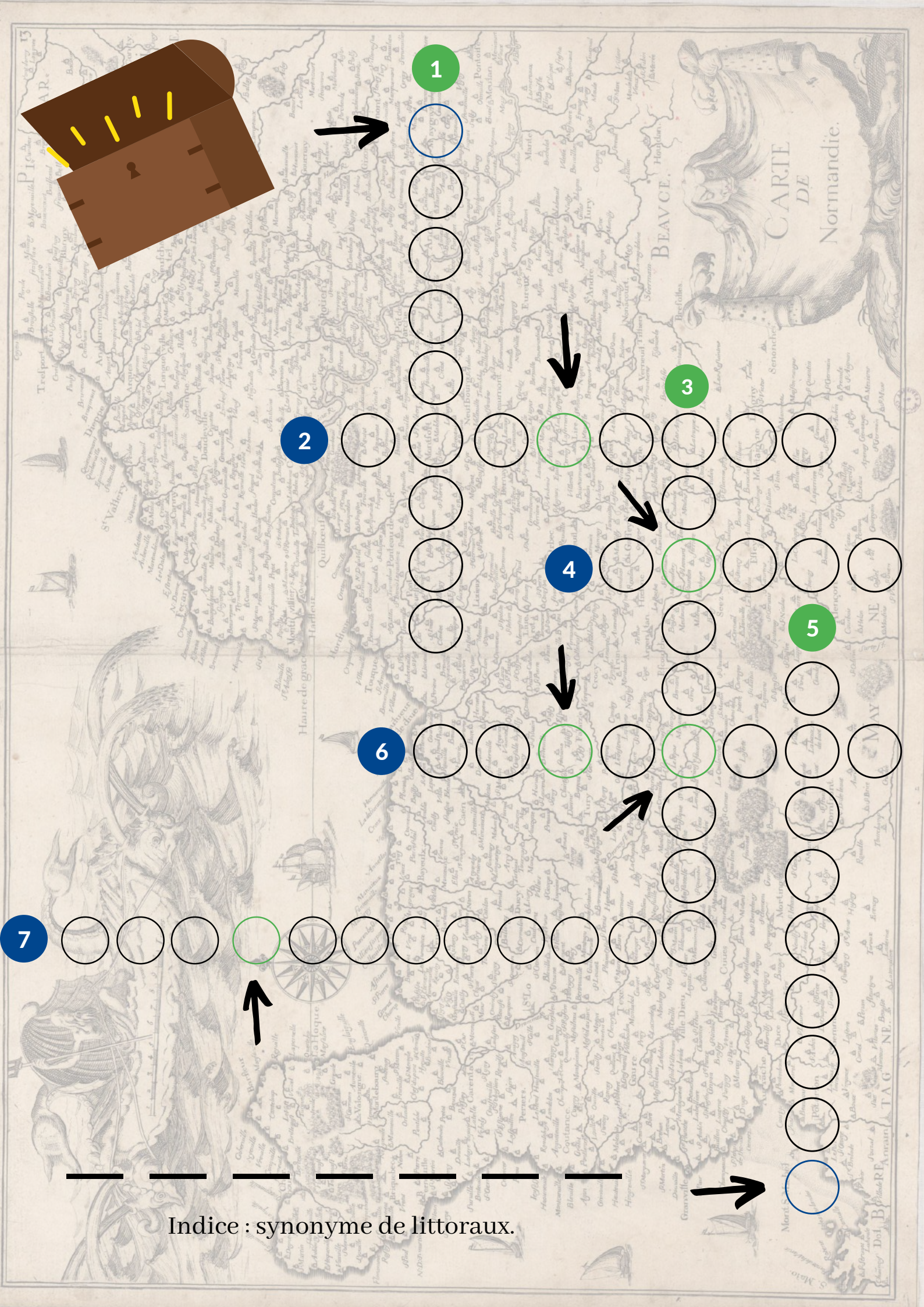
C'est en hiver que les rivages de la Méditerranée étaient fréquentés. En été, c'était en Normandie !

Découvrez tous les mots avec les définitions !

- 1 Célèbre conquérant normand
- 2 Créé le 4 mars 1790
- 3 Ville créée en 1859
- 4 Représentation géographique
- 5 Notre région
- 6 Dieu de la mer dans la mythologie grecque
- 7 L'étude des cours et étendues d'eau

Ensuite essaye de retrouver le mot mystère avec les lettres fléchées !





1

2

4

3

5

6

7

Indice : synonyme de littoraux.