

Panneaux 13 et 14 : Se loger malgré tout ; la vie dans les logements provisoires

En quels matériaux étaient construits les baraquements ?
En kit : bois et toit en carton bitumé

Qu'est-ce qui rend les conditions de vie dans les baraquements très difficiles ?
Donne des exemples précis de ces conditions de vie.

Mauvaise isolation thermique (il fait froid), sonore (on entend les voisins), promiscuité (baraquements collés les uns aux autres ; une seule chambre pour la famille), eau froide qui gèle en hiver, etc.



Baraquement accueillant la Poste sur l'actuelle place du Marché (ca. 1948-50)

Panneaux 16 et 17 : Vivre au quotidien

Quel système est mis en place au niveau national pour aider les sinistrés à obtenir le matériel et les vivres dont ils ont besoin ? [Système de parrainage entre villes](#)

Quels pays viennent en aide aux sinistrés au niveau international ? [Pays alliés \(États-Unis, Canada...\)](#) et [neutres \(Suède...\)](#)



Charles Pommier avec des soldats américains le 4 juillet 1944

Le panneau 17 présente un extrait du discours de Charles Pommier, maire de Trévières de 1941 à 1971.

De quand date ce discours ? [13 juillet 1949](#)

A qui s'adresse-t-il ? [E. Claudius-Petit, Ministre de la R et de l'U](#)

Combien de maisons individuelles ont été détruites ? [74](#)

Combien ont été sinistrées partiellement ? [169](#)

Que demande M. Pommier ? [Il demande à l'État que soit lancée la construction d'un îlot de bâtiments destinés à accueillir des habitants et commerçants sinistrés.](#)

Selon lui, quel impact cela aura-t-il sur la vie de la commune ?
[La faire renaître : commerce, agriculture, marchés](#)

[Renaissance via le commerce, l'agriculture et les marchés](#)

Panneau 18 : Vers des jours meilleurs

Sur ce panneau, quels indices laissent penser que les habitants revivent peu à peu ?
[Ouverture des écoles et des universités, plage, football, défilés dans les rues, théâtre, mariage, mode, concours de pétanque...](#)

Exposition Sortir de la guerre

Panneaux 2 et 3 : Chronologie

A quelle date a été libérée la ville de Trévières ? [Le 10 juin 1944](#)

Panneaux 4 et 5 : Survivre à la bataille

Relie chaque photo au titre qui lui correspond le mieux.



Les populations évacuent en urgence, elles fuient sur les routes



Les habitants se réfugient dans des abris de fortune

Les civils vivent dans la peur

Les populations perdent des proches, des êtres chers

Des organisations comme la Croix Rouge ou le Secours National viennent en aide aux civils



Panneaux 6 et 7 : Des villes à l'état de ruines, une estimation difficile à faire...

Combien de victimes dénombre-t-on à Trévières ? [17](#)

Quel est le taux de destruction de la ville ? [45 %](#)



Photo A

Quel est ce bâtiment aujourd'hui disparu ?

L'ancien hôtel de ville de Trévières

Repère ce bâtiment sur la photo B ci-contre (aide-toi des fenêtres, des cheminées...) puis entoure-le.

À l'aide des photos B, C et D et du point rouge qui indique à chaque fois l'emplacement de la même maison, trace une croix à la place de ce bâtiment disparu sur la photo de la Place du Marché aujourd'hui.



Photo B




Photo C



Photo D - La Place du Marché aujourd'hui



Panneau 8 : Déblayer et déminer

À partir du panneau 8 et particulièrement des 6 affiches présentées, répond à ces questions :

Qui sont les démineurs ? Des Français mais aussi des prisonniers de guerre allemands

Pourquoi démine-t-on ? Pour sécuriser et permettre la reconstruction et l'exploitation des terres

Quels sont les moyens employés pour déminer ? Des charrues, des sondes, des bêches (= les moyens du bord)

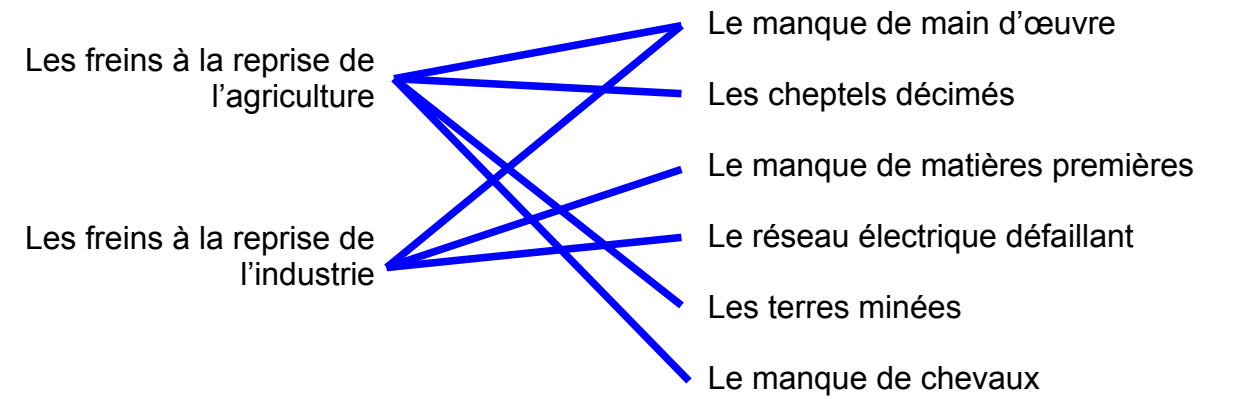
Quels endroits démine-t-on ? Partout : les terres agricoles, les plages, les bois...

Panneau 9 : Rétablir les infrastructures

En quelle année les infrastructures (activité portuaire, réseaux routier et ferré, charbon, réseau électrique...) commencent-elles à être rétablies ? 1947

Panneau 10 : Remettre l'économie en marche

Relie chaque activité économique aux freins qui l'empêchent de reprendre après la guerre :



Panneaux 11 et 12 : Reconstruire ; la Reconstruction en actes

Comment se nomme le Ministère créé le 16 novembre 1944 ? Le Ministère de la Reconstruction de l'Urbanisme

Quelle est sa mission ? Évaluer les dommages faits aux biens, nommer les architectes, lancer les projets de reconstruction...

Combien de temps durent les chantiers de reconstruction ? 20 ans

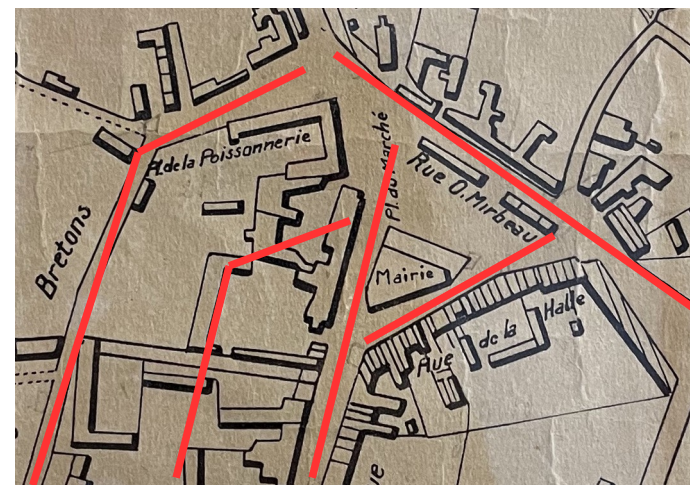
Les dommages « certains, matériels et directs » des biens par les faits de guerre ouvrent droit à une indemnisation intégrale qui s'effectue selon un ordre de priorité. De quand date cette loi ?

Loi du 28 octobre 1946

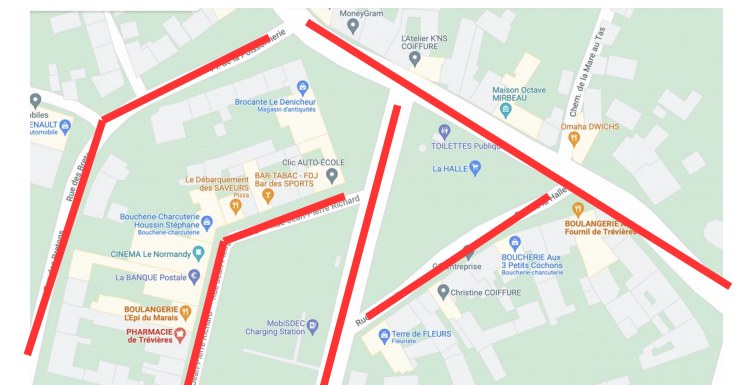
Voici le plan de la Place du Marché de Trévières avant-guerre et après-guerre. Les lignes en rouge représentent les axes routiers actuels.

Quelles différences d'urbanisme constates-tu entre les deux plans ? Relèves-en au moins 3.

- Une rue est percée dans les bâtiments situés entre la mairie et la rue des Bretons
- La mairie a disparu
- Les bâtiments le long de la rue Octave Mirbeau ont disparu



AVANT-GUERRE



APRÈS-GUERRE