

Panneaux 13 et 14 : Se loger malgré tout ; la vie dans les logements provisoires

En quels matériaux étaient construits les baraquements ?

Qu'est-ce qui rend les conditions de vie dans les baraquements très difficiles ? Donne des exemples précis




Baraquement accueillant la Poste sur l'actuelle place du Marché (ca. 1948-50)

Panneaux 16 et 17 : Vivre au quotidien

Quel système est mis en place au niveau national pour aider les sinistrés à obtenir le matériel et les vivres dont ils ont besoin ?

Quels pays viennent en aide aux sinistrés au niveau international ?



Charles Pommier avec des soldats américains le 4 juillet 1944

Le panneau 17 présente un extrait du discours de Charles Pommier, maire de Trévières de 1941 à 1971.

De quand date ce discours ?

A qui s'adresse-t-il ?

Combien de maisons individuelles ont été détruites ?

Combien ont été sinistrées partiellement ?

Que demande M. Pommier ?

Selon lui, quel impact cela aura-t-il sur la vie de la commune ?

Panneau 18 : Vers des jours meilleurs

Sur ce panneau, quels indices laissent penser que les habitants revivent peu à peu ?

Exposition Sortir de la guerre

Panneaux 2 et 3 : Chronologie

A quelle date a été libérée la ville de Trévières ?

Panneaux 4 et 5 : Survivre à la bataille

Relie chaque photo au titre qui lui correspond le mieux.



Les populations évacuent en urgence, elles fuient sur les routes



Les habitants se réfugient dans des abris de fortune



Les civils vivent dans la peur

Les populations perdent des proches, des êtres chers

Des organisations comme la Croix Rouge ou le Secours National viennent en aide aux civils



Panneaux 6 et 7 : Des villes à l'état de ruines, une estimation difficile à faire...

Combien de victimes dénombre-t-on à Trévières ?

Quel est le taux de destruction de la ville ?



Photo A

Quel est ce bâtiment aujourd'hui disparu ?

Repère ce bâtiment sur la photo B ci-contre (aide-toi des fenêtres, des cheminées...) puis entoure-le.

À l'aide des photos B, C et D et du point rouge qui indique à chaque fois l'emplacement de la même maison, trace une croix à la place de ce bâtiment disparu sur la photo de la Place du Marché aujourd'hui.



Photo B



Photo C



Photo D - La Place du Marché aujourd'hui



Panneau 8 : Déblayer et déminer

À partir du panneau 8 et particulièrement des 6 affiches présentées, répond à ces questions :

Qui sont les démineurs ?

Pourquoi démine-t-on ?

Quels sont les moyens employés pour déminer ?

Quels endroits démine-t-on ?

Panneau 9 : Rétablir les infrastructures

En quelle année les infrastructures (activité portuaire, réseaux routier et ferré, charbon, réseau électrique...) commencent-elles à être rétablies ?

Panneau 10 : Remettre l'économie en marche

Relie chaque activité économique aux freins qui l'empêchent de reprendre après la guerre :

Les freins à la reprise de l'agriculture

Les freins à la reprise de l'industrie

Le manque de main d'oeuvre

Les cheptels décimés

Le manque de matières premières

Le réseau électrique défaillant

Les terres minées

Le manque de chevaux

Panneaux 11 et 12 : Reconstruire ; la Reconstruction en actes

Comment se nomme le Ministère créé le 16 novembre 1944 ?

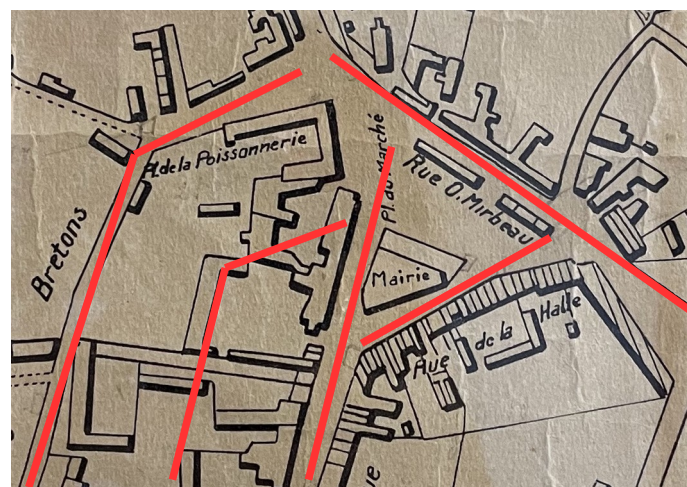
Quelle est sa mission ?

Combien de temps durent les chantiers de reconstruction ?

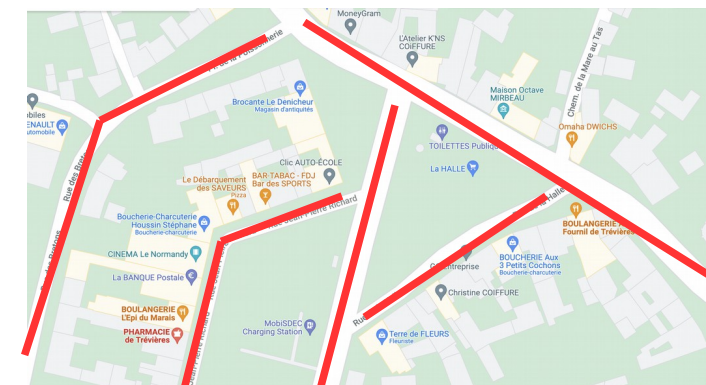
Les dommages « certains, matériels et directs » des biens par les faits de guerre ouvrent droit à une indemnisation intégrale qui s'effectue selon un ordre de priorité. De quand date cette loi ?

Voici le plan de la Place du Marché de Trévières avant-guerre et après-guerre. Les lignes en rouge représentent les axes routiers actuels. Quelles différences d'urbanisme constates-tu entre les deux plans ? Relèves-en au moins 3.

-
-
-



AVANT-GUERRE



APRÈS-GUERRE